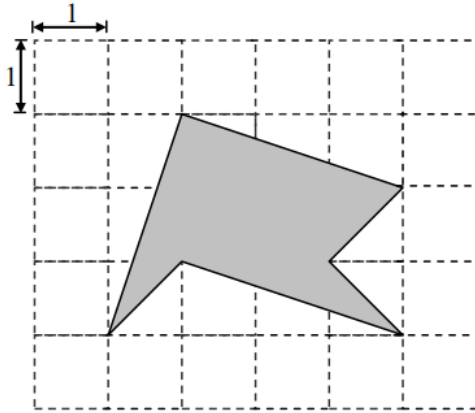




45/100

เส้นตรงแต่ละเส้นทั้งในแนวนอนและแนวตั้งขนานกันและห่างกัน 1 หน่วย ดังภาพ
พื้นที่แรเงาเท่ากับกี่ตารางหน่วย



krumhon564 (online)
krumhon5656 (คอร์สสด)



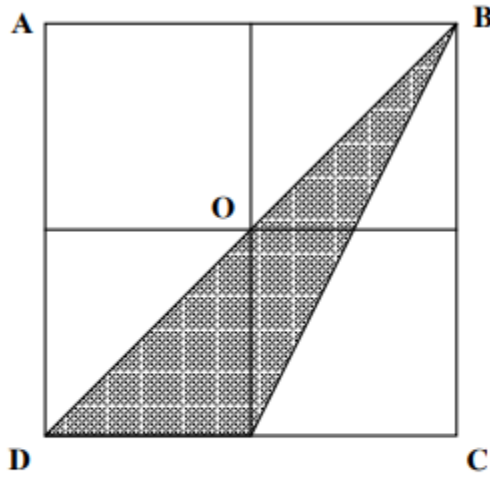
ครูหมอนศิษย์คือลูก



090-5914242
084-6499539



46/100



พื้นที่รวมกันทั้งหมดของรูปสี่เหลี่ยมจัตุรัสรูปเล็กขนาดเท่ากัน 4 รูป เป็นกี่เท่าของพื้นที่ของรูปที่แรเงา



krumhon564 (online)
krumhon5656 (คอร์สสด)



ครูทอนศิษย์คือลูก

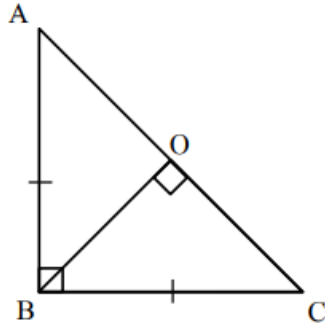


090-5914242
084-6499539



47/100

รูปสามเหลี่ยม ABC ดังรูป มีด้าน AB ยาว 8 หน่วย



จงหาผลคูณของความยาวด้าน OC และความยาวด้าน OB



krumhon564 (online)
krumhon5656 (คอร์สสด)



ครูหมอนศิษย์คือลูก

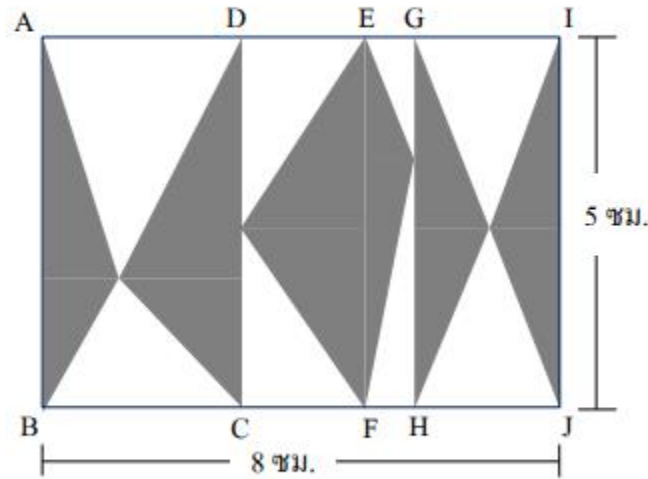


090-5914242
084-6499539



48/100

รูปสี่เหลี่ยมผืนผ้า ABCD, DCFE, EFHG และ GHJI แสดงดังรูป



ส่วนที่แรเงามีพื้นที่รวมกัน กี่ตารางเซนติเมตร



krumhon564 (online)
krumhon5656 (คอร์สสด)



ครูหมอนศิษย์คือลูก



090-5914242
084-6499539