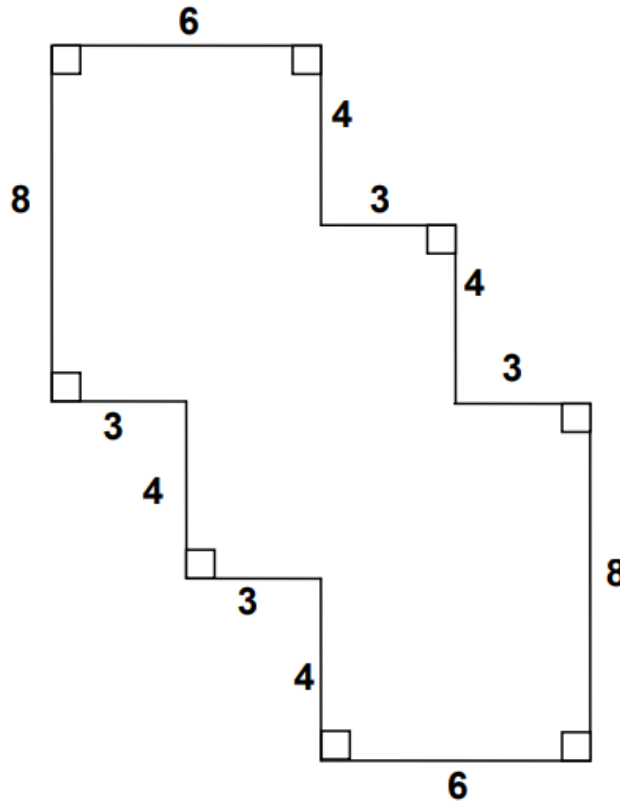




57/100



รูปหลายเหลี่ยมที่กำหนดให้มีพื้นที่ที่ต่ำกว่าหน่วย



krumhon564 (online)  
krumhon5656 (คอร์สสด)



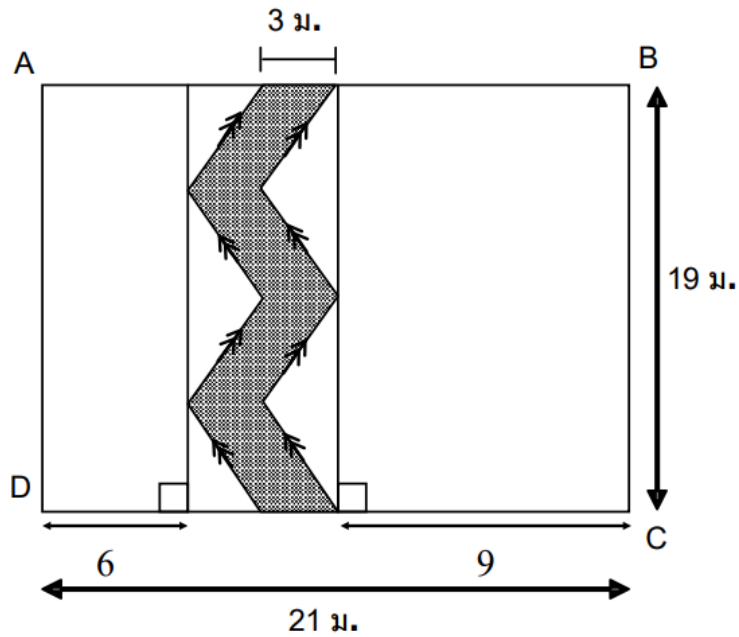
ครูหมอนศิษย์คือลูก



090-5914242  
084-6499539



58/100



จากรูปสี่เหลี่ยมผืนผ้า ABCD พื้นที่ส่วนที่ไม่แรเงาเป็นกิตารางเมตร



krumhon564 (online)  
krumhon5656 (คอร์สสด)



ครูทอนศิษย์คือลูก

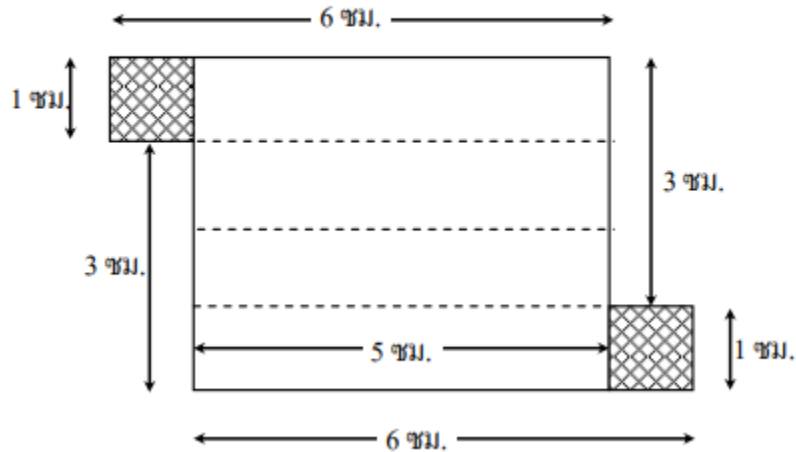


090-5914242  
084-6499539



59/100

กล่องปิดที่เกิดจากการพับกระดาษ ดังรูป มีปริมาตรมากที่สุดก็ลูกบาศก์เซนติเมตร



krumhon564 (online)  
krumhon5656 (คอร์สสด)



ครูหมอนศิษย์คือลูก



090-5914242  
084-6499539



คณิตโคตรง่าย!

www.krumhon24.com

ปี 64 EP.15 โจทย์ สสวท ป.6

60/100

นำกระเบื้องรูปสี่เหลี่ยมจัตุรัสขนาด  $50 \times 50$  ตารางเซนติเมตร ปูภายในบริเวณพื้นรูปสามเหลี่ยมมุมฉากซึ่งมีด้านประกอบมุมฉากยาวด้านละ 20 เมตร โดยปูเรียงติดกันไปและไม่หักกระเบื้อง จงหาว่ามีพื้นที่ซึ่งไม่สามารถปูกระเบื้องน้อยที่สุดกี่ตารางเมตร



krumhon564 (online)  
krumhon5656 (คอร์สสด)



ครูทอนศิษย์คือลูก



090-5914242  
084-6499539