



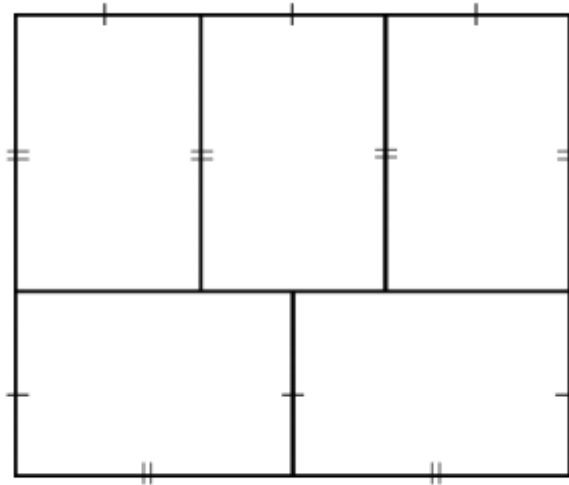
คณิตโคตรง่าย!

www.krumhon24.com

ปี 64 EP.18 โจทย์ สสวท ป.6

69/100

คุณแม่มีที่ดินรูปสี่เหลี่ยมผืนผ้าที่มีความยาวรอบรูป 176 เมตร แบ่งให้ลูก 5 คน
คนละเท่าๆ กัน เป็นที่ดินรูปสี่เหลี่ยมผืนผ้าที่มีความยาวด้านเป็นจำนวนนับ
ดังรูป



ที่ดินของลูกแต่ละคนมีความยาวรอบรูปกี่เมตร



krumhon564 (online)
krumhon5656 (คอร์สสด)



ครูหมอนศิษย์คือลูก



090-5914242
084-6499539



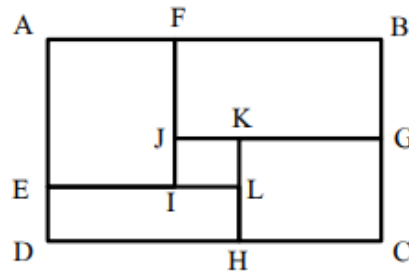
70/100

รูปสี่เหลี่ยมผืนผ้า ABCD มีความยาวรอบรูป 68 เซนติเมตรและมีพื้นที่ 280 ตารางเซนติเมตร

รูปสี่เหลี่ยมมุมฉาก GCHK มีพื้นที่ 63 ตารางเซนติเมตร

รูปสี่เหลี่ยมมุมฉาก HLED มีพื้นที่ 44 ตารางเซนติเมตร

และรูปสี่เหลี่ยมมุมฉาก AEIF มีพื้นที่ 80 ตารางเซนติเมตร ดังรูป



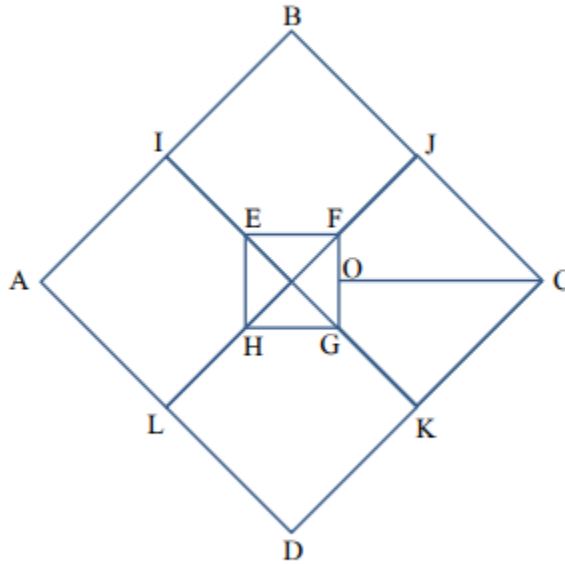
ถ้าจุด G เป็นจุดกึ่งกลางของ \overline{BC} แล้วรูปสี่เหลี่ยม IJKL มีพื้นที่กี่ตารางเซนติเมตร





71/100

รูปสี่เหลี่ยมจัตุรัส ABCD มีจุด I, J, K และ L เป็นจุดกึ่งกลางของด้าน AB, BC, CD และ DA ตามลำดับ และรูปสี่เหลี่ยมจัตุรัส EFGH มีจุด O เป็นจุดกึ่งกลางของด้าน FG ดังรูป




ถ้ารูปสี่เหลี่ยม ABCD มีความยาวด้านละ 16 หน่วย และรูปสี่เหลี่ยม EFGH มีความยาวด้านละ 4 หน่วย แล้วรูปสี่เหลี่ยม CKGO มีพื้นที่กี่ตารางหน่วย





72/100

รูปสี่เหลี่ยมจัตุรัสจำนวน 9 รูป มีลักษณะ ดังรูป



กำหนดให้ความยาวด้านของแต่ละรูปเป็น 6, 7, 8, ..., 14 หน่วย
ส่วนที่แรเงาทั้งหมดมีพื้นที่กี่ตารางหน่วย



krumhon564 (online)
krumhon5656 (คอร์สสด)



ครูหมอนศิษย์คือลูก



090-5914242
084-6499539