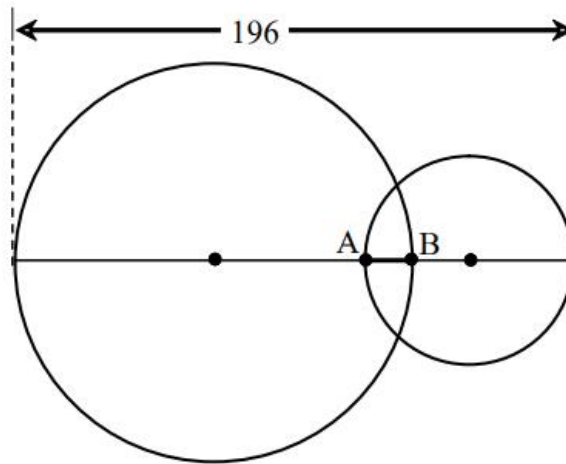




89/100 กำหนดให้รูปวงกลมใหญ่มีรัศมีเป็นสองเท่าของรัศมีรูปวงกลมเล็ก ดังรูป

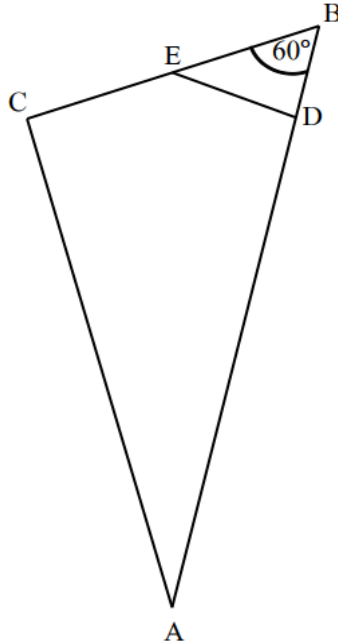


จากรูป ถ้ารัศมีของรูปวงกลมใหญ่ยาวเป็น 5 เท่าของความยาวส่วนของเส้นตรง AB แล้ว รัศมีของรูปวงกลมใหญ่ยาวกี่หน่วย





90/100 กำหนดรูปสามเหลี่ยม ABC ดังรูป



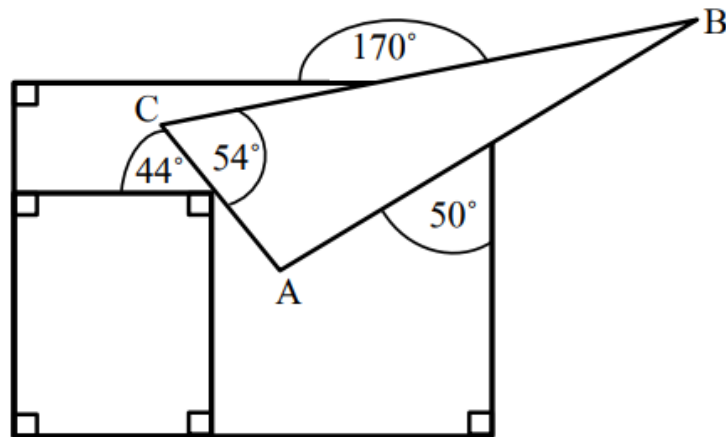
จากรูป ถ้า ADEC เป็นรูปสี่เหลี่ยมรูปว่าว และมุม DEC มีขนาดเป็น 9 เท่าของมุม CAD แล้วมุม ADE มีขนาดกี่องศา





91/100

พิจารณารูปต่อไปนี้



จากรูป มุม ABC มีขนาดกี่องศา



krumhon564 (online)
krumhon5656 (คอร์สสด)



ครูหมอนศิษย์คือลูก

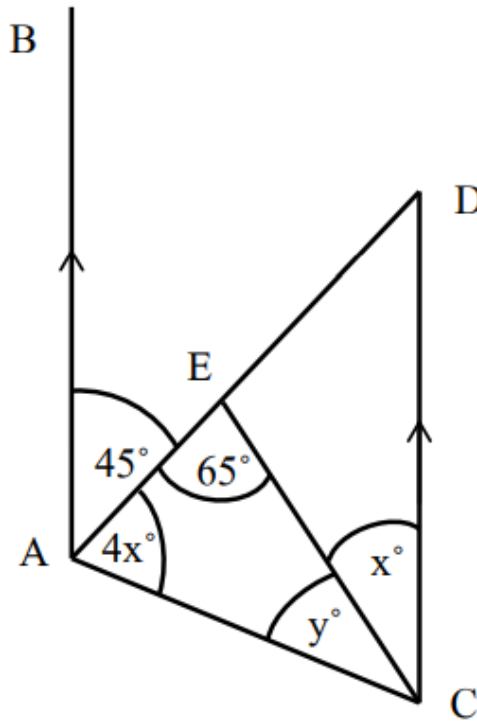


090-5914242
084-6499539



92/100

กำหนดให้ส่วนของเส้นตรง AB ขนานกับส่วนของเส้นตรง CD ดังรูป



จากรูป ค่าของ $x + y$ เป็นเท่าใด



krumhon564 (online)
krumhon5656 (คอร์สสด)



ครูหมอนศิษย์คือลูก



090-5914242
084-6499539